



*Ministero dell' Istruzione,  
dell' Università e della Ricerca*

*Gruppo di lavoro per la predisposizione degli indirizzi per l'attuazione  
delle disposizioni concernenti la valutazione del servizio scolastico*

**Progetto Pilota  
Valutazione della scuola italiana**

Anno Scolastico 2003 – 2004

# PROVA DI SCIENZE

*Scuola Elementare*

**Classe Seconda**

**Codici**

**Scuola:** .....

**Classe:** .....

**Studente:** .....

Spazio per l'etichetta autoadesiva

**A cura dell'INValSI**



13016

1301 CODICE PAGINA



1302\_CODICE PAGINA

13020



## ISTRUZIONI GENERALI

Fai la massima attenzione a queste istruzioni.

Nel fascicolo ci sono 7 domande di scienze.

Ogni domanda ha tre possibili risposte, ma una sola è quella giusta.

Prima di ogni risposta c'è una lettera dell'alfabeto.

Per rispondere metti una crocetta nel quadratino a sinistra della risposta che ritieni giusta, come nell'esempio seguente.

### Esempio 1

1. Quante zampe ha la gallina?

A. Due.

B. Quattro.

C. Sei.

È stata messa una crocetta nel quadratino corrispondente alla lettera 'A' perché la gallina ha due zampe.

Se non sei sicura/o di una risposta, segna la risposta che ti sembra giusta e continua con la domanda successiva.



Se ti accorgi di aver sbagliato, puoi correggere scrivendo **NO** vicino alla risposta sbagliata e mettendo una crocetta nel quadratino della risposta che ti sembra giusta, come nell'esempio seguente.

### Esempio 2

|   |
|---|
| <p>2. Quanti minuti ci sono in 1 ora?</p> <p><b>NO</b> <input checked="" type="checkbox"/> A. 30</p> <p><input type="checkbox"/> B. 50</p> <p><input checked="" type="checkbox"/> C. 60</p> |
|---|

In questo esempio la prima risposta 'A' (sbagliata) è stata corretta con la risposta 'C' (che è quella giusta) perché in 1 ora ci sono 60 minuti.

Deve comunque essere chiaro qual è la risposta che intendi dare. Non scrivere con la matita, usa soltanto una penna nera o blu.

Hai a disposizione 25 minuti per rispondere alle domande. L'insegnante ti dirà quando cominciare a lavorare. Quando l'insegnante ti comunicherà che il tempo è finito posa la penna e chiudi il fascicolo.



Se finisci prima, puoi chiudere il fascicolo e aspettare la fine,  
oppure puoi controllare le risposte che hai dato.



1. Osserva con attenzione il disegno.



Quale delle seguenti affermazioni è VERA?

- A. Nel paesaggio non si vedono grossi alberi.
- B. Il ragazzo porta uno zaino sulle spalle.
- C. Lo scoiattolo è nascosto dietro l'albero.



2. Quando l'uva è matura, viene raccolta (vendemmia) per produrre il vino. Le immagini rappresentano quattro momenti del lavoro del contadino.




|   |  |  |                                     |
|---|--|--|-------------------------------------|
| (1)<br>L'uva viene schiacciata (pigiatura). | (2)<br>L'uva viene raccolta (vendemmia). | (3)<br>Il vino è nella bottiglia che viene tappata ed etichettata. | (4)<br>Il vino viene imbottigliato. |
|---|--|--|-------------------------------------|

In che ordine di tempo si svolgono queste azioni?

- A. 2, 1, 3, 4
- B. 1, 2, 3, 4
- C. 2, 1, 4, 3



3. La lumachina affamata, dopo essere salita su alcuni sassi, ha finalmente raggiunto le gustose foglie di una piantina di insalata.



Quali sono gli esseri viventi presenti in questo breve racconto?

- A. La piantina di insalata, la lumachina e i sassi.
- B. Solo la piantina di insalata e la lumachina.
- C. Solo la lumachina.
- 

4. Elena sta lavando i vestiti delle sue bambole nel lavandino e lascia scorrere a lungo l'acqua dal rubinetto. La mamma le dice di mettere il tappo al lavandino e di chiudere il rubinetto.

Perché la mamma dice così?

- A. Non vuole che l'acqua bagni il pavimento.
- B. L'acqua fredda può provocare un raffreddore.
- C. L'acqua è importante e non bisogna sprecarla.






5. Durante una passeggiata nel parco Luigi ha visto molti animali e ha osservato che si muovono in modi diversi. Quale movimento NON corrisponde all'animale osservato?

- A. La farfalla vola.
  - B. Il serpente striscia.
  - C. La formica salta.
- 

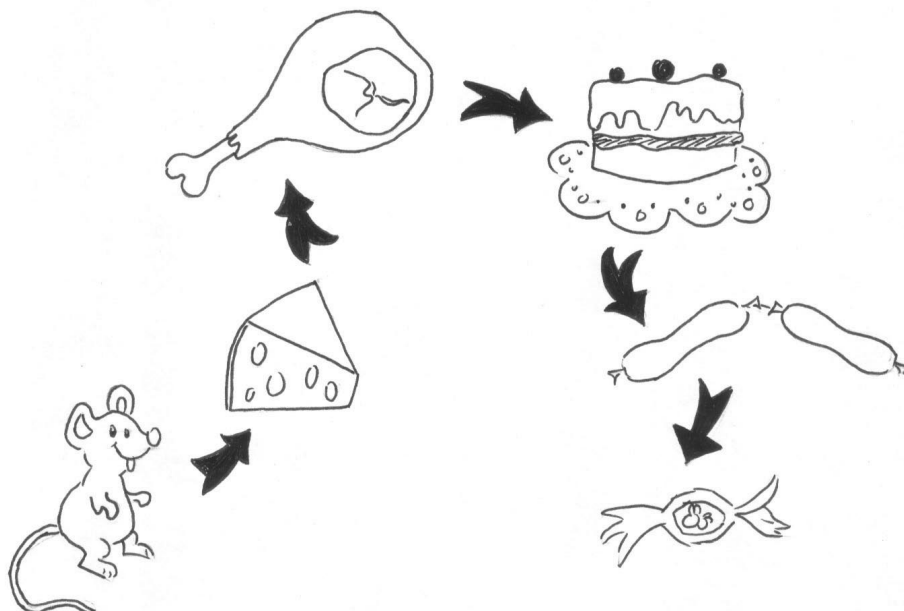
6. Ester assaggia questi alimenti:



Quale di queste affermazioni è VERA?

- A. Il cioccolato è salato.
- B. Il limone è aspro.
- C. Tutti i cibi sono dolci.

7. Le frecce indicano l'ordine che il topo Gnam Gnam ha seguito mentre mangiava i cibi trovati nel magazzino.



Quale delle seguenti affermazioni è VERA?

- A. Per ultimo il topo ha mangiato il prosciutto.
- B. Subito dopo la torta ha mangiato la salsiccia.
- C. Dopo la torta ha mangiato il prosciutto.





1311\_ CODICE PAGINA

13112





1312 CODICE PAGINA

13123

